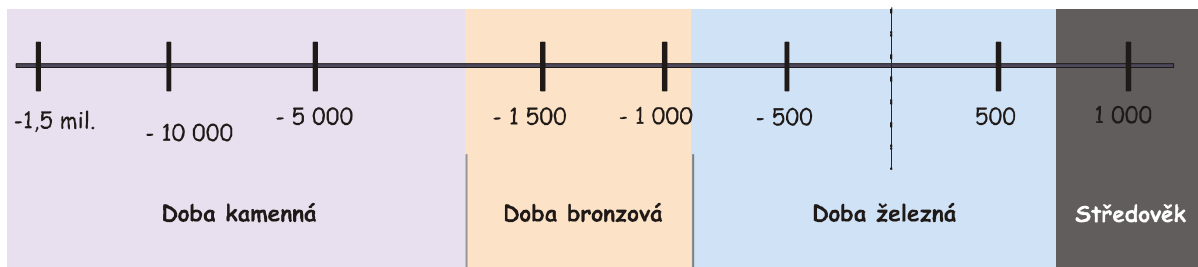


KELTOVÉ VE STŘEDNÍCH ČECHÁCH

/ Pracovní list k výstavě / pro 2. až 3. stupeň /

1. Vyznač na časové ose období, kdy Keltové obývali naši zemi.



2. Mohli se Keltové potkat s:

a) Vilémem Dobyvatelem	
b) Gaiem Juliem Caesarem	c) Sámem
d) Dalajlámou	e) Alexandrem Makedonským?

3. Jakým jménem Římané nazývali Kelty? _____
A jak se jmenovaly kmeny žijící na území dnešních Čech? _____

4. Napiš alespoň tři lokality, ve kterých byly nalezeny známky keltského osídlení. _____

5. Proč jsou pro nás (= Evropany, Čechy) Keltové tak významní?

- a) přiblížili Evropu vyspělé jižní - antické kultuře
- b) vynalezli papír
- c) vytvořili nové výrobní metody v mnoha oborech
- d) začali používat pěstní klín
- e) založili obchodní styk s americkými zeměmi
- f) tvoří ve střední Evropě přechod od pravěku ke středověku

6. Přirovej keltské svátky k svátkům, které slavíme dnes:

Samhain (1.11.) _____

Imbolc (1.2.) _____

Beltine (1.5.) _____

Lugnasad (1.8.) _____




Bronzová soška ze Stradonic

7. Kdo byli druidi? a) kněží b) soudci c) lékaři d) vychovatelé


8. Dokresli znaky (všechny najdeš ve výstavě v blízkosti věštírny) a spoj jejich název se správným významem.



SPIRÁLA



TRIQUETRA



TARANISOVO
KOLO

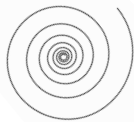
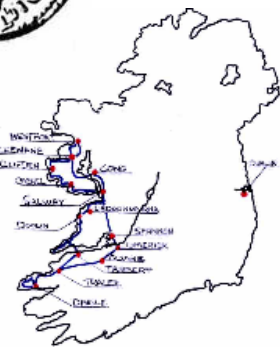
Trojité uzel,
symbol ohně, vody a
země nebo také
minulosti, přítomnosti
a budoucnosti

Sluneční
znamení, znak
boha nebes

Doplňuje životní
energii, přeměňuje
negativní vlivy na
pozitivní

9. Všechna vyškrtávaná slova (10) mají vztah k životu Keltů. Při jejich hledání přemýšlej jaký.

A L Á R I P S Š
L S Í L I B O V
Y K T S O K O A
H C A E S A R R
O P Š R R P I T
M A I D U I M N
K O B E L I X A



Tajenka: _____

Vysvětli, co to je: _____